

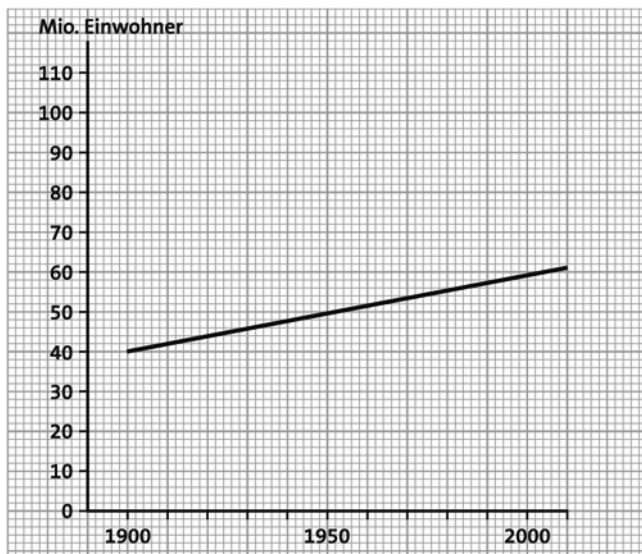


Vergleich der Bevölkerungsentwicklung in Großbritannien und in Mexiko

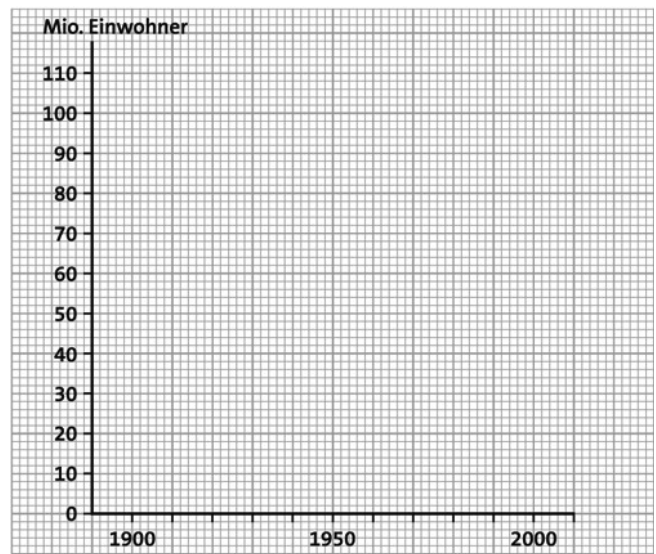
1 Zeichne die Kurve der Entwicklung der Bevölkerung Mexikos, indem du die oberen Zahlen aus der Tabelle (Einw./Mio.) richtig einträgst. Hilfe: Achte genau auf die Einteilung der beiden Achsen des Diagramms!

3 Zeichne die Phasen der Bevölkerungsentwicklung Mexikos (Geburten und Sterbefälle, s. Tabelle). Färbe die Fläche zwischen den Kurven. Was entspricht dieser Fläche? Hilfe: Überlege, welche Auswirkungen es hat, wenn die Kurve der Geburtenrate in einer Bevölkerung sehr viel höher liegt als die Kurve der Sterberate.

Bevölkerungsentwicklung



Entwicklung der Bevölkerung Großbritanniens

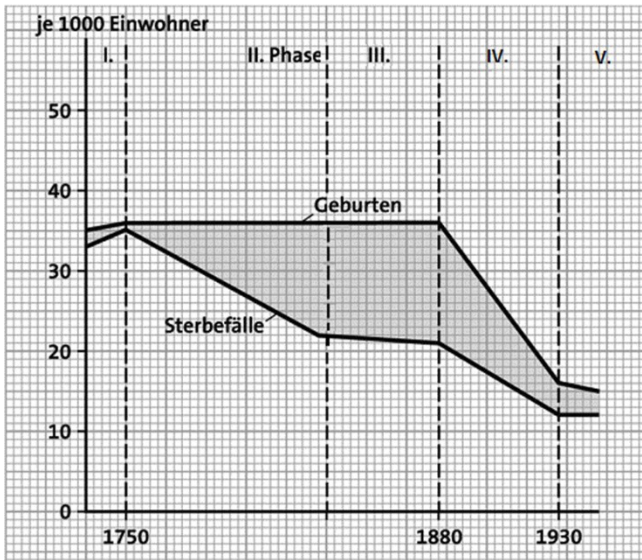


Entwicklung der Bevölkerung Mexikos

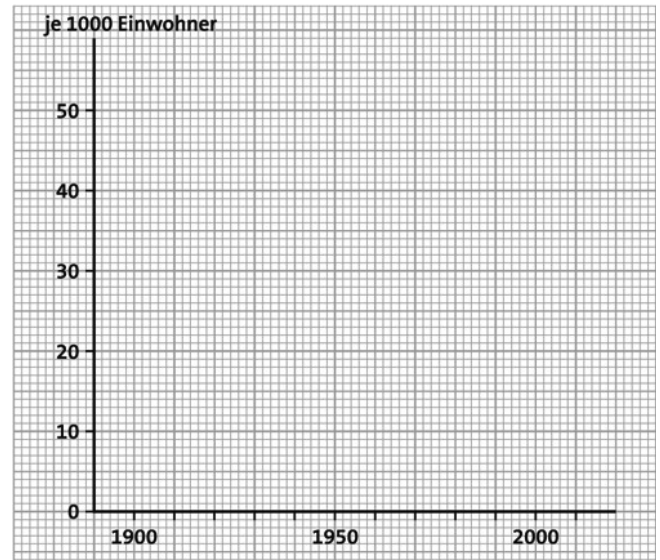
	1900	1930	1960	1990	2010
Einwohner in Mio.	13	17	35	83	112
Geburten je 1000 Einw.	34	50	46	27	23
Sterbefälle je 1000 Einw.	32	27	12	5	5

Name:
Klasse:
Datum:





Phasen der Bevölkerungsentwicklung
Großbritanniens



Phasen der Bevölkerungsentwicklung Mexikos